



a) **QUANTOS** algarismos esse número possui?

b) **QUANTAS** ordens? \_\_\_\_\_ E quantas classes? \_\_\_\_\_

c) **QUAL** é o algarismo da dezena de milhar? \_\_\_\_\_

d) Qual é o valor posicional do algarismo da dezena de milhar? \_\_\_\_\_

e) **Decomponha-o** de acordo com o valor posicional e de acordo com a ordem que cada algarismo ocupa \_\_\_\_\_

e) Sua ordem de grandeza é \_\_\_\_\_

3- **Solucione** as situações-problema que envolvem o uso da divisão.

a) Mamãe fez 72 brigadeiros e repartiu entre seus 8 sobrinhos. **Quantos** brigadeiros cada um receberam?

Cálculo

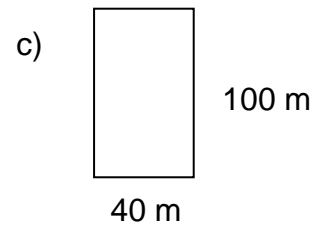
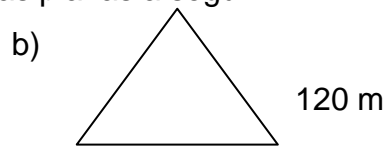
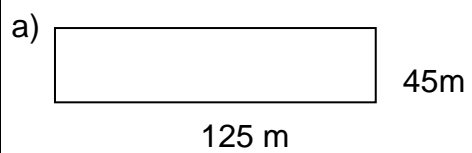
Resposta: \_\_\_\_\_

b) Uma professora tem 127 lápis de cor e quer repartir igualmente entre 5 crianças. **Quantos** lápis receberá cada um? **Sobrarão** lápis?

Cálculo

Resposta: \_\_\_\_\_

4- **Calcule** o perímetro das formas planas a seguir.



---

5- **Arme e resolva** as operações.

a)  $45 \times 632 =$

c)  $455 : 5 =$

b)  $648 : 8 =$

d)  $157 : 3 =$

Confira cada cálculo feito!!