



Aluno(a) ● ● ●

Professor(a)  
Meura

Ano  
5°

Data  
18/05/17

## ATIVIDADE DE MATEMÁTICA – II BIMESTRE

1- **Arme** as operações, **resolva-as** e **aplique a operação inversa** verificando se estão corretas.

- a)  $564.987 + 98210 =$
- b)  $45672 - 19983 =$
- c)  $12 \times 876 =$
- d)  $3456 : 15 =$



2- **Escreva** os 10 menores múltiplos dos números abaixo:

- M(3): { \_\_\_\_\_ }  
M(4): { \_\_\_\_\_ }  
M (7): { \_\_\_\_\_ }  
M (12): { \_\_\_\_\_ }

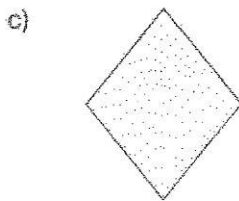
3- Considerando os números 15, 25 e 36, **encontre**:

- a) os divisores de 15 \_\_\_\_\_
- b) os divisores de 25 \_\_\_\_\_
- c) os divisores de 36: \_\_\_\_\_

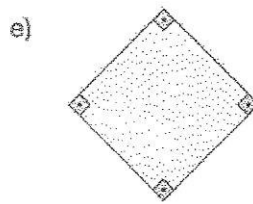
4- **Dê o nome** de cada quadrilátero.



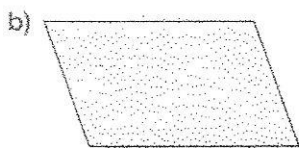
\_\_\_\_\_



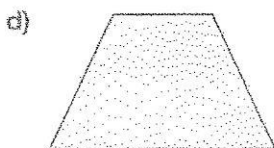
\_\_\_\_\_




\_\_\_\_\_



\_\_\_\_\_



\_\_\_\_\_



\_\_\_\_\_

5- **Resolva** as expressões a seguir.

a)  $6 \times 8 + (40:5 - 10:2) + 120 =$

b)  $1000 - (840 : 4 + 3 \times 27) =$

\_\_\_\_\_

\_\_\_\_\_

\_\_\_\_\_

\_\_\_\_\_

\_\_\_\_\_

6- **Leia** atentamente as situações-problema e depois **resolva**.

a) Mamãe comprou uma lavadora de roupas de 3954 reais. Ela deu uma entrada de 754 reais e o restante dividiu em 4 prestações iguais. Qual será o valor de cada prestação?

Cálculos

Resposta

\_\_\_\_\_

b) Numa caixa há 2 dúzias de bombons. Quantos refrigerantes terão em 21483caixas iguais a essa?

Cálculos

Resposta

\_\_\_\_\_