

Aluno(a) ●●●

Professor(a)

Meura

Ano

4º

Data

16/05/17

ATIVIDADES DE MATEMÁTICA -PLANTÃO-II BIMESTRE

1- Observe as informações no gráfico a seguir, depois faça o que se pede de acordo com os nossos estudos diários.



<https://wwgoogle.com.br/gráfico+barras+duplas> - Acesso em 29/05/2016 - Gráfico adaptado para fins didáticos.

a) Qual foi o trimestre que foi feito o maior número de vendas? Qual foi o valor da venda?

b) Qual foi o trimestre que foi feito o menor número de vendas? Qual foi o valor da venda?

c) Qual foi o valor das vendas feitas no terceiro trimestre no ano de 2005? E em 2004?

2- Que nome recebe os polígonos de:

a) três lados? _____

e) sete lados? _____

b) quatro lados? _____

f) oito lados? _____

c) cinco lados? _____

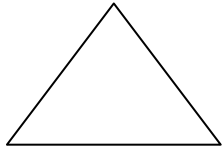
g) nove lados? _____

d) seis lados? _____

h) dez lados? _____


3- Calcule o perímetro das figuras planas a seguir.

a)



33 m


b)



45 m

4- Observe o polígono ao lado e complete as afirmativas.

- a) Um polígono tem _____ lados.
- b) Dois polígonos têm _____ lados.
- c) Seis polígonos têm _____ lados.
- d) Oito polígonos têm _____ lados.
- e) Nove polígonos têm _____ lados.
- f) Dez polígonos têm _____ lados.



5- Reparta igualmente 24 brigadeiros em 2 bandejas. Quantos brigadeiros receberão em cada bandeja?

Resposta

Estude diariamente a tabuada!!