

Aluno(a) ●●●

Professor(a)
MEURA


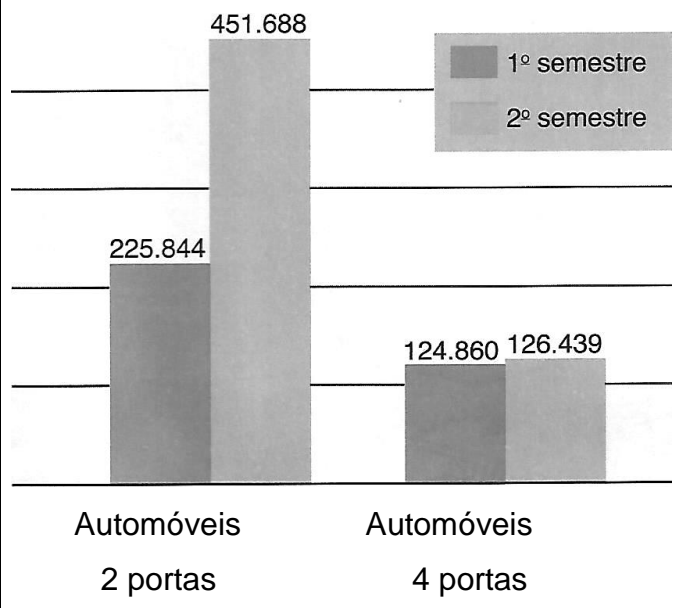
Ano
4º

Data
08/05/18

PLANTÃO DE MATEMÁTICA-II BIMESTRE

1. **Atenção! OBSERVE** o gráfico e, em seguida, resolva as questões propostas.

Vendas de veículos em 2012 no Brasil



Construindo com os Números – Tânia Falcão - 4º Ano - Editora Construir

a) **Que** INFORMAÇÃO o gráfico apresenta?

b) **Registre** a QUANTIDADE de carros mais vendida:

c) Em **qual** semestre foram vendidos menos carros com 4 portas?

d) **Quantos** automóveis de duas portas FORAM VENDIDOS no total?

Operação

Resposta: _____

e) **Quantos** automóveis de 4 portas FORAM VENDIDOS A MAIS no 2º semestre em relação ao 1º semestre?

Operação

Resposta: _____

2- **Observe** o Quadro de Ordens e, seguindo as dicas, **REPRESENTE** o numeral pedido.

CLASSE DOS MILHÕES			CLASSE DOS MILHARES			CLASSE DAS UNIDADES		
Centena de milhão	Dezena de milhão	Unidade de milhão	Centena de milhar	Dezena de milhar	Unidade de milhar	Centena	Dezena	Unidade

***O numeral deve ter a ordem de grandeza **centena de milhar** e o seu algarismo é a **metade de 4**;

*** **A Dezena de Milhar será ocupada pelo algarismo que é o produto de 3X 2**;

*** **A primeira classe será ocupada pela **adição de 300 + 399**.**

3- A padaria de Joca produz 1456 pães por dia. Assim:

- a) Quantos pães seriam feitos em 12 dias? _____
- b) Quantos pães seriam feitos em 24 dias? _____
- c) Quantos pães seriam feitos em 25 dias? _____

Cálculos:

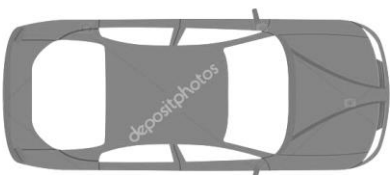
4-- **Observe** o valor de uma bicicleta e **complete** a tabela, **realizando** os os cálculos necessários.

Bicicleta	Valor
1	R\$ 632,00
2	
4	
6	
8	



5- **REGISTRE O NOME** de cada vista apresentada nas imagens a seguir.





Torcemos pelo seu constante sucesso! Confira sempre os cálculos!!!