

Aluno(a) ● ● ●

Professor(a)

Ano
4º

Data
08/08

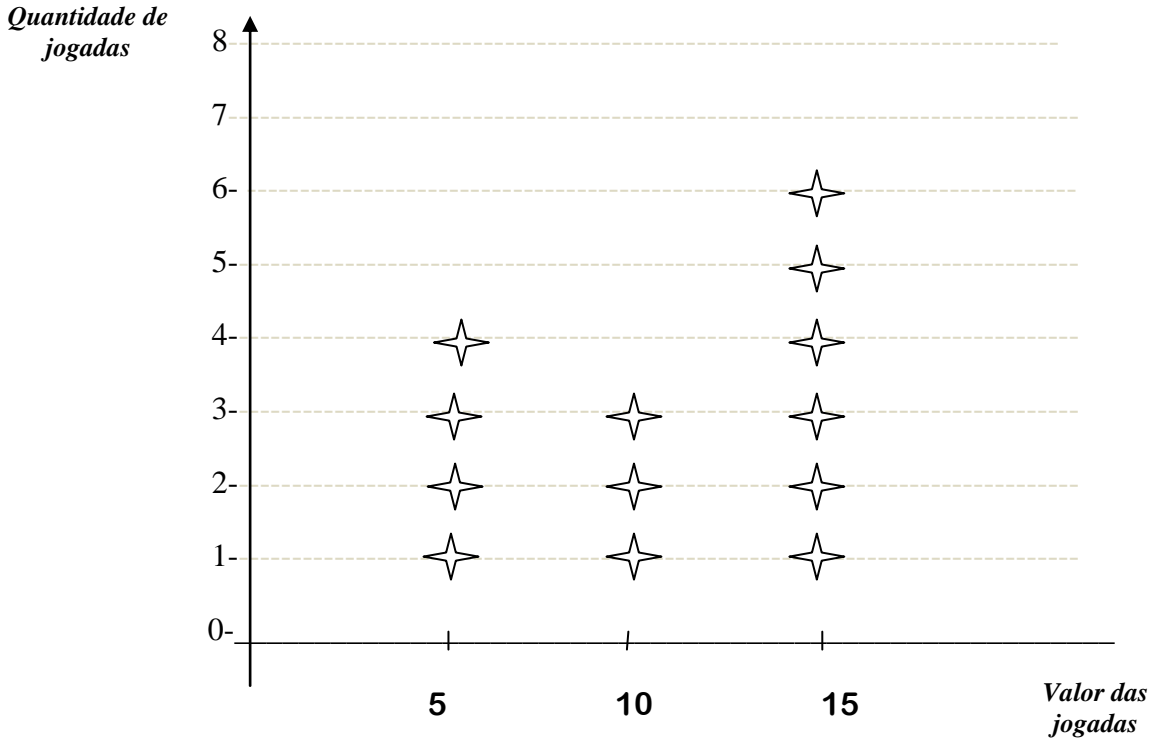
ATIVIDADE AVALIATIVA DE RECUPERAÇÃO EM MATEMÁTICA
Atividade II - II Bimestre

As atividades valem 2.0 e a avaliação valerá 8.0.
A atividade deverá ser entregue para a professora.

Valor: 1,0
Nota: _____

1- Veja o seguinte gráfico e em seguida responda as questões referentes.
Em uma partida de fliperama, Carlos conseguiu marcar o seguinte placar:

Pontos marcados por Carlos



a) **Quantos pontos** Carlos fez com jogadas de:

- Valor de 5 pontos? _____
- Valor de 10 pontos? _____
- Valor de 15 pontos? _____

b) Quantos pontos Carlos fez ao todo na partida?

Operação

Resposta

2- Siga as dicas para resolver:

- a) A primeira parcela é o triplo de 200, a segunda parcela é a metade de 1000 e a terceira parcela é o antecessor de 999. Qual é a soma?

Operação

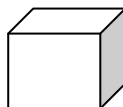
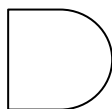
Resposta

- b) O dividendo é 892 e o divisor é 2. Qual é o quociente? Qual é o resto?

Operação

Resposta

3- Observe as figuras abaixo e faça o que for pedido.



- a) **Faça um X** na figura que é um polígono. **Justifique** sua opção.

- b) **Circule** de vermelho o sólido geométrico.

- c) **Por que** a figura do meio não é um polígono?

4- Comprei uma calça por 426 reais e paguei com 9 notas de 50 reais. Quanto recebi de troco?

Operação

Resposta

5- Temos abaixo operações. **Efetue-as** e **dê** o nome de cada termo. **Importante:** Você deve armar antes de efetuar as operações!

a) $35 \times 678 =$

b) $374 : 6 =$